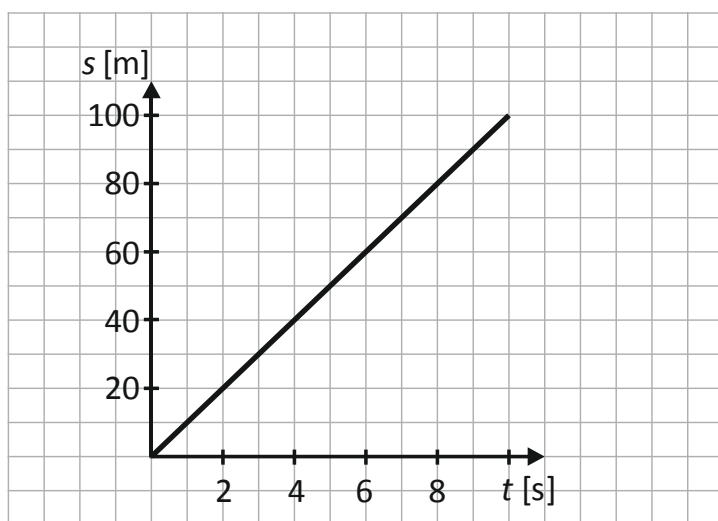


Kwiecień 2009

**Egzamin w trzeciej klasie gimnazjum z zakresu przedmiotów matematyczno-
-przyrodniczych**

Informacje do zadań 5. i 6.

Wykres przedstawia zależność przebytej przez zawodnika drogi od czasu biegu.



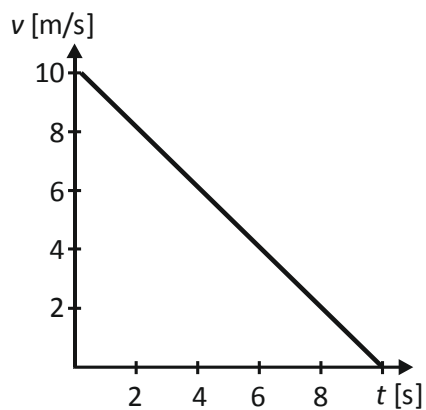
Zadanie 5. (0-1)

Jaką drogę przebywał zawodnik w ciągu każdej sekundy?

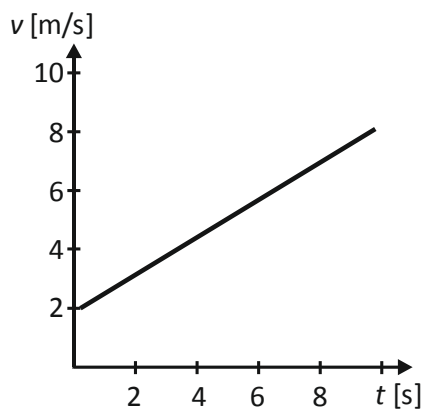
- A. 10 m
- B. 20 m
- C. 40 m
- D. 100 m

Zadanie 6. (0-1)

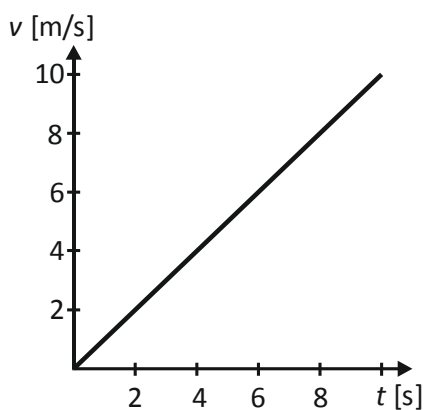
Który z wykresów poprawnie przedstawia zależność prędkości od czasu biegu zawodnika?



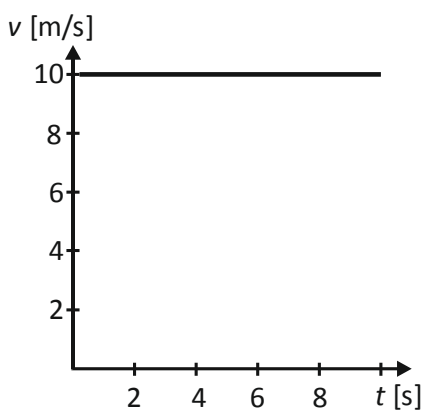
A.



B.



C.



D.